



Προβλήματα πολλαπλασιασμού



Προβλήματα πολλαπλασιασμού



Προβλήματα πολλαπλασιασμού


Σκέφτομαι και απαντώ:

Η Μαρία φύτεψε **5**  γλάστρες.

Σε κάθε γλάστρα φύτεψε **2**  λουλούδια.

Πόσα λουλούδια έχει η Μαρία τώρα;

$$\square \times \square = \square$$

Η Αλεξία έχει **2**  κουτιά μπισκότα.

Το κάθε κουτί έχει **9**  μπισκότα.

Πόσα μπισκότα έχει η Αλεξία ;


$$\square \times \square = \square$$



Προβλήματα πολλαπλασιασμού

Σκέφτομαι και απαντώ:

Ο Κώστας αγόρασε **3** κουτάκια τσίχλες.

Το κάθε κουτί είχε **7**  τσίχλες .

Πόσες τσίχλες έχει ο Κώστας τώρα;

$$\square \times \square = \square$$

Ο Νικόλας έχει **5**  βάζα καραμέλες.

Το κάθε βάζο έχει **3**  καραμέλες.


Πόσες καραμέλες έχει ο Νικόλας ;

$$\square \times \square = \square$$



Προβλήματα πολλαπλασιασμού

Σκέφτομαι και απαντώ:

Ο Μιχάλης αγόρασε **2**  σοκολάτες.

Η κάθε σοκολάτα είχε **2** ευρώ.

Πόσες ευρώ έδωσε ο Μιχάλης ;

$$\square \times \square = \square$$

Η Κατερίνα αγόρασε **3**  παγωτά.

Το κάθε παγωτό έκανε 2 ευρώ.

Πόσες ευρώ έδωσε η Κατερίνα ;

$$\square \times \square = \square$$



Προβλήματα πολλαπλασιασμού



Το περιεχόμενο του <http://sxoleiogiaolous.gr> περιλαμβάνει φύλλα εργασίας σε μορφή pdf. Τα pdf αυτά αποτελούν πνευματική ιδιοκτησία του σχολείου για όλους και των δημιουργών του (Αποστολοπούλου Νίκη και Χαραλάμπους Ασπασία). Το υλικό αυτό δεν μπορεί να τροποποιηθεί ή να χρησιμοποιηθεί για εμπορικούς σκοπούς.

Επιτρέπεται η αναδημοσίευση του υλικού με τον όρο να συνοδεύεται από το όνομα του δημιουργού. Κάποιο από το υλικό μας είναι ανοιχτό σε όλο το κοινό που επισκέπτεται την ιστοσελίδα μας. Για να έχετε πρόσβαση σε όλο το υλικό μας συμπληρώστε τα στοιχεία σας στην ακόλουθη φόρμα.

**Με εκτίμηση, οι δημιουργοί του
Νίκη και Άσπα**